

## HOJA DE DATOS DE LA TAREA ENTREGADA

FECHA \_\_\_\_\_

MÓDULO 2 BLOQUE 4

ÁMBITO SOCIAL

NOMBRE Y APELLIDOS \_\_\_\_\_

*Esta hoja debe ser rellena y adjuntada como primera página de la tarea*

## INSTRUCCIONES

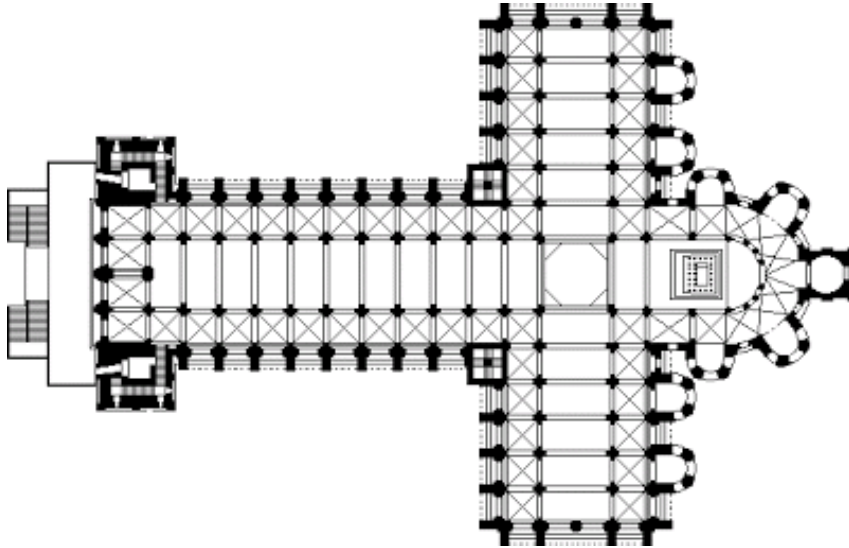
### PARA LA REALIZACIÓN Y ENTREGA DE ESTAS TAREAS:

- Los trabajos pueden entregarse realizados a mano, o a ordenador.
- No se admitirá ni calificará ningún trabajo escrito a lápiz.
- Tampoco se evaluará un trabajo fotocopiado.
- No se puede escribir todo el trabajo en letra mayúscula.
- Cuida la ortografía, la expresión y la estructuración de las respuestas.
- También debes tener en cuenta la presentación y la legibilidad de la escritura.
- No olvides que los ejercicios de estas tareas son un apoyo para tu estudio, por lo tanto, primero debes estudiar la materia que corresponda y después pasar a realizar estas tareas.
- También se admitirá la entrega dentro del plazo a través de medios telemáticos (aula virtual de Edmodo, correo electrónico) en este caso, el profesor te enviará un correo o mensaje, confirmado su recepción, este correo o mensaje será el justificante de entrega.

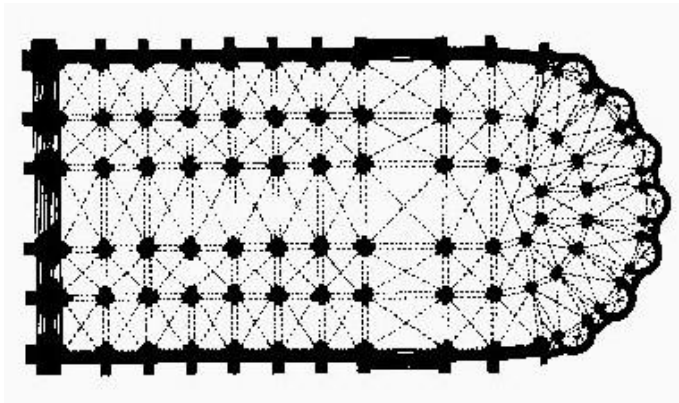
### SUGERENCIAS PARA REALIZAR EL TRABAJO:

- Antes de empezar a realizar las actividades lee detenidamente el texto.
- No dudes en hacer un borrador previo si crees que lo necesitas.
- Recuerda que es conveniente revisar tu trabajo una vez lo hayas terminado.

1- Sobre la siguiente imagen, que corresponde a la planta de una Catedral románica, señala los elementos que la caracterizan.

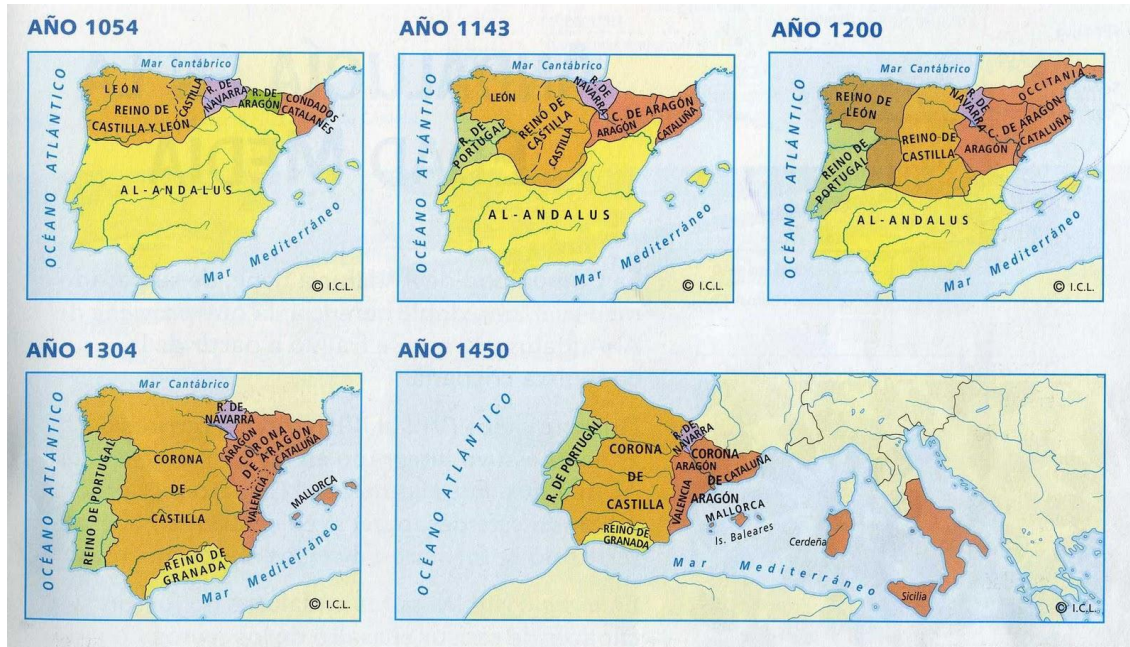


2- En este caso aparece la planta de una Catedral gótica, podrías decirme cuáles son las diferencias y evolución de una a otra.



*Nota: para poder realizar estos dos ejercicios podéis ayudaros de las siguientes páginas web: [www.romanicodigital.es](http://www.romanicodigital.es)/[www.arteguias.com](http://www.arteguias.com)*

3- Analiza los mapas que aparecen a continuación y responde a las preguntas.



- En el año 1054, la frontera entre el reino de Castilla y León quedó establecida, más o menos, en lo que actualmente es la comunidad de Castilla y León, pero ¿Qué elemento geográfico fue utilizado como establecer aproximadamente la frontera?
- ¿Cómo era la situación de los reinos cristianos a principios del siglo XIV? ¿Cuál era el territorio más poderoso de todos ellos? ¿Qué reino no podía seguir avanzando y por qué?
- Hacia donde se orientaron los intereses de la Corona de Aragón en el siglo XV? ¿Qué territorios conquistaron?
- Utilizando como referencia el libro de texto, realiza dos líneas cronológicas una encima de la otra para su posterior análisis. En la primera tienes que situar las fases y hechos más importantes de la evolución de Al-Andalus y en la segunda ubicar las fases y hechos más importantes de la evolución de los reinos cristianos.